

## Exercice n°1 : Les grandes zones climatiques de la Terre

**Consigne :** Répondre aux questions en utilisant les documents proposés. Citer pour chaque réponse, le(s) document(s) utilisés.

➤ Questions :

Q1) Citer les différentes zones climatiques de la Terre.

Q2) Compléter le document 2.

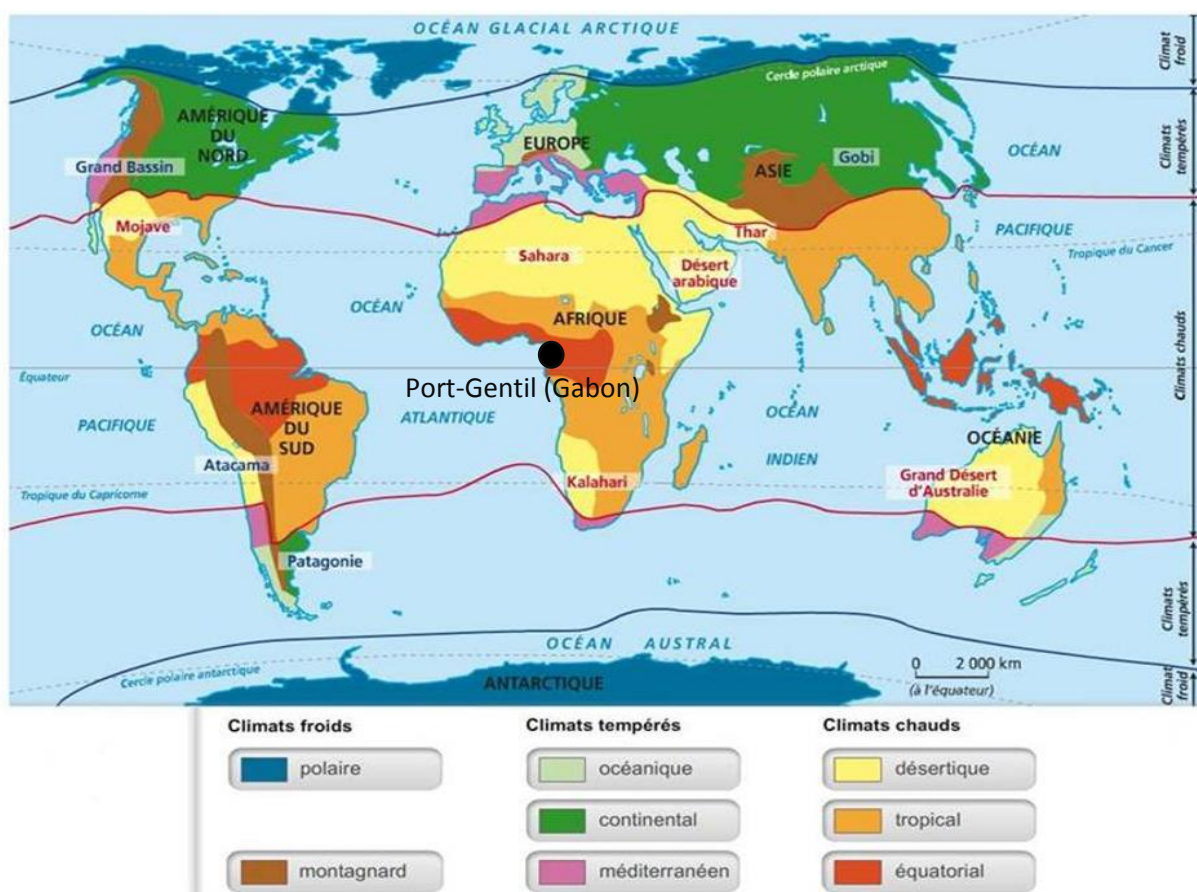
Q3) Indiquer les différences entre la zone chaude et la zone tempérée en comparant les climats de Paris (France) et à Port-Gentil (Gabon).

Q4) Légender le document 3 en associant chaque partie du hamburger à une zone climatique.

Q5) Expliquer pourquoi la Terre est découpée en zones climatiques.

➤ Documents (Tous les documents sont à utiliser) :

Doc. 1 : Carte mondiale présentant les zones climatiques de la Terre




Doc. 2 : Tableau présentant les lieux de vacances de quelques individus

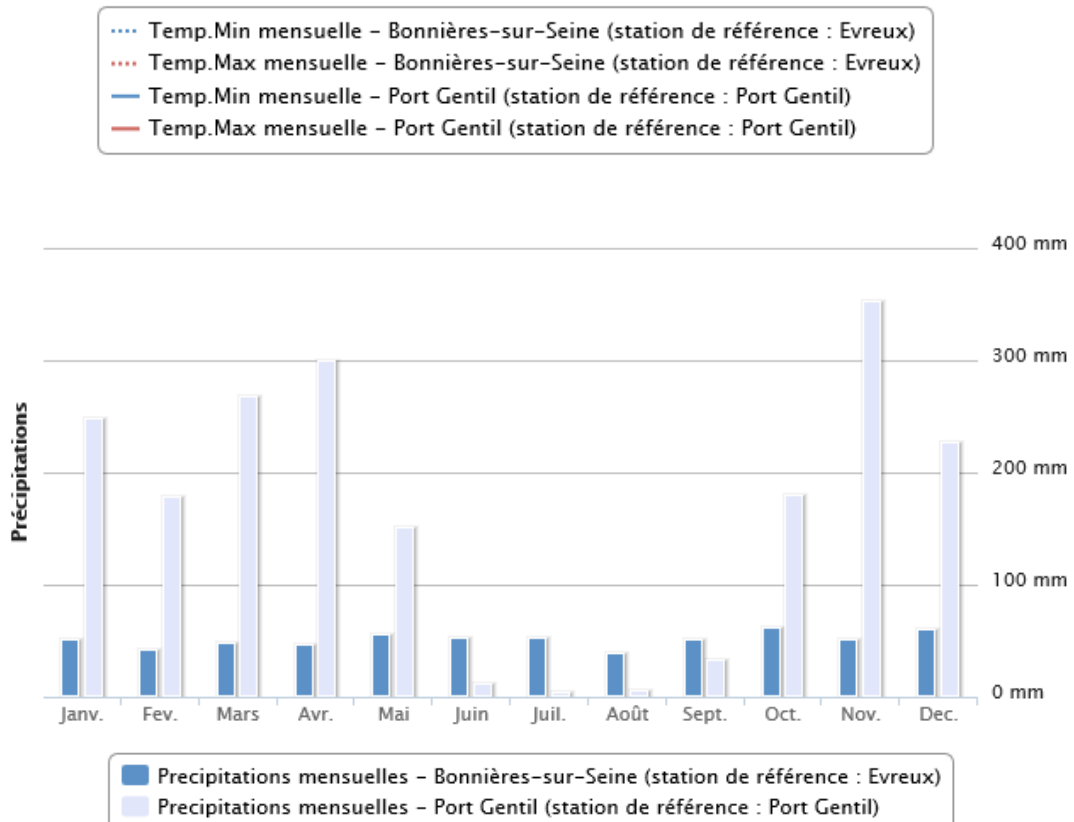
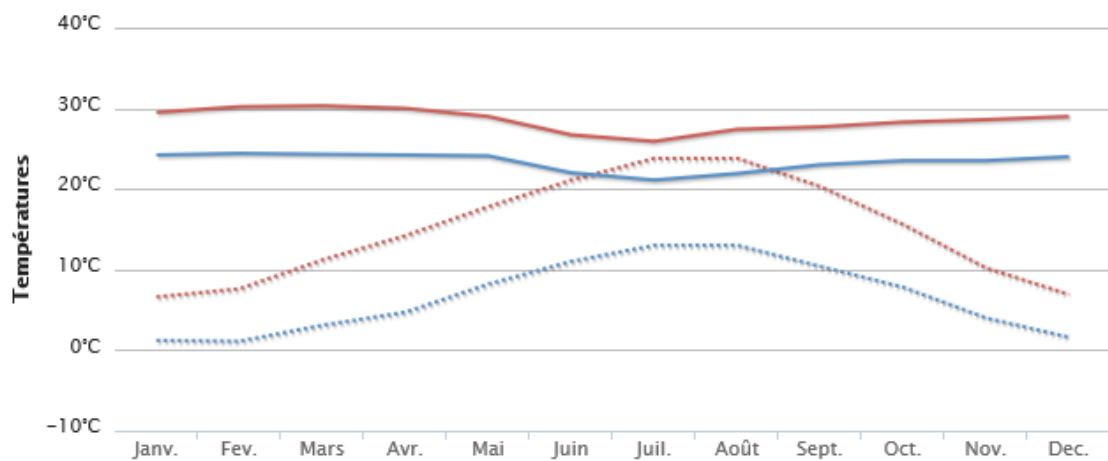
	Kevin	Julie	Alex	Cindy
<b>Zone climatique</b>	.....	.....	Froid	Chaud
<b>Climat</b>	.....	Montagnard	.....	Désertique
<b>Pays possible pour les vacances</b>	Espagne	Kazakhstan	Canada	.....

### Doc. 3 : Le « Terre Burger »

Un hamburger peut faire penser aux zones climatiques de la Terre, bon appétit !

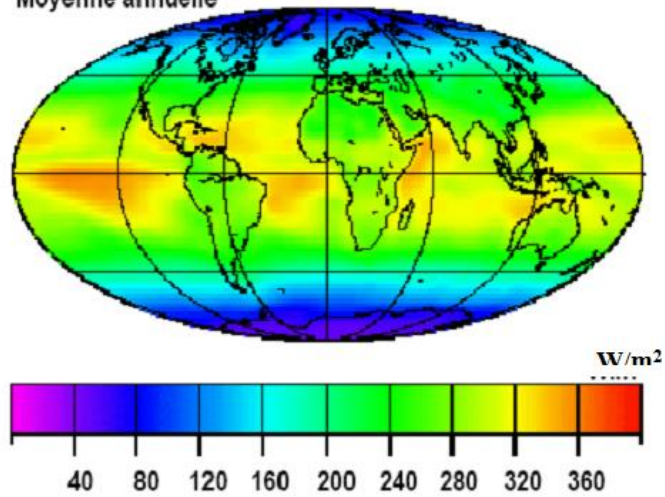


Doc. 4 : Graphiques présentant les températures et les précipitations à Bonnières-sur-Seine (France) et à Port-Gentil (Gabon, Afrique)



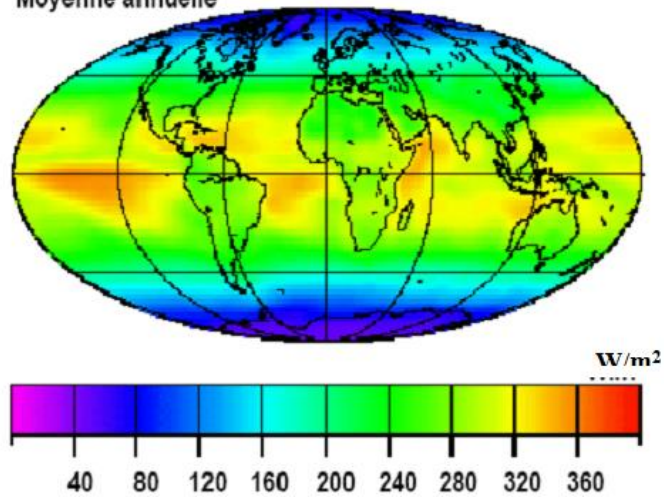
Doc. 5 : Carte mondiale de la répartition de l'énergie solaire (en  $W/m^2$ )

Moyenne annuelle



Doc. 5 : Carte mondiale de la répartition de l'énergie solaire (en  $W/m^2$ )

Moyenne annuelle



Doc. 5 : Carte mondiale de la répartition de l'énergie solaire (en  $W/m^2$ )

Moyenne annuelle

